



Лист 1 – Задания

Дата проведения: 3 декабря 2020 года

Возрастная группа: Детский сад

Время проведения: 30 минут

Конкурсное задание состоит из 15 вопросов.

Количество верных ответов один!

ФИ участника	
ФИО воспитателя	

СТАРТ


I дистанция

1. Рассматривая свои фотографии, Слонёнок нашёл снимок с мамой. Выбери неверное высказывание.




- (1) Мама выше Слонёнка.
- (2) Слонёнок младше мамы.
- (3) Мама больше Слонёнка.
- (4) Слонёнок тяжелее мамы.





2. Слонёнок нарисовал замок. Посчитай, сколько треугольников на рисунке. Ответ запиши числом.



1 км

3. В детском саду Слонёнка спросили: «Что лишнее на картинке?». Выбери верный ответ с объяснением.



<p>Лишний</p>  <p>потому что разноцветный.</p> <p>(1)</p>	<p>Лишний</p>  <p>потому что съедобный.</p> <p>(2)</p>	<p>Лишний</p>  <p>потому что круглый.</p> <p>(3)</p>	<p>Лишний</p>  <p>потому что некруглой формы.</p> <p>(4)</p>
--	---	---	---

4. Проходя мимо шкафа с игрушками, Слонёнок случайно уронил пирамидку, которая состоит из 7 колечек. Пять колечек разлетелись в разные стороны. Слонёнок поднял и поставил 3 колечка, увидел ошибку и убрал одно. Сколько колечек ещё нужно поставить Слонёнку, чтобы собрать пирамидку? Ответ запиши числом.

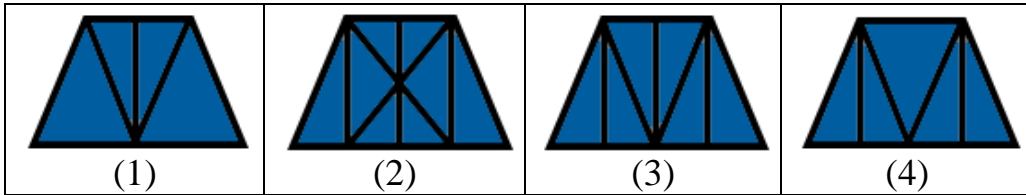
2 км



5. Посмотри внимательно на необычные примеры, которые придумал Слонёнок. Какой ответ получится во втором примере?




3 км



II дистанция

6. В любимой книжке Слонёнка есть картинки с изображением времён года. Признаков какого времени года нет на картинках?

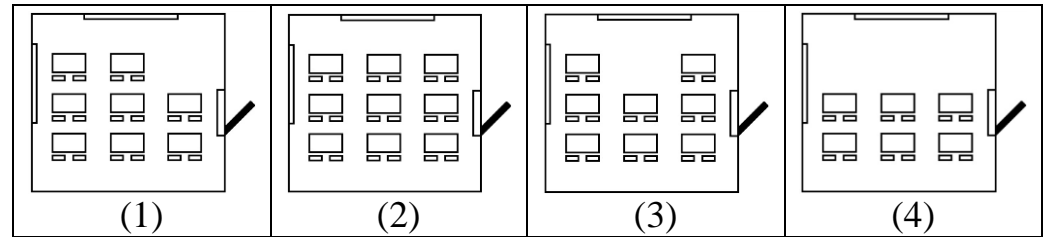
3 км



7. Слонёнок заглянул в школу и попробовал нарисовать несколько вариантов плана классной комнаты. Какой план правильный?

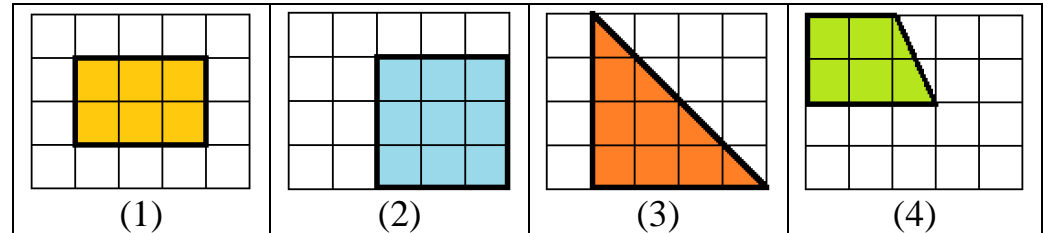


2 км



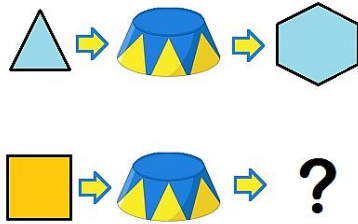

8. Перед тобой фигуры, которые Слонёнок нарисовал, пока ждал звонок от Мартышки. Мысленно расставь их слева-направо по увеличению площади (количества занятых клеточек). Какая фигура будет третьей слева?

3 км

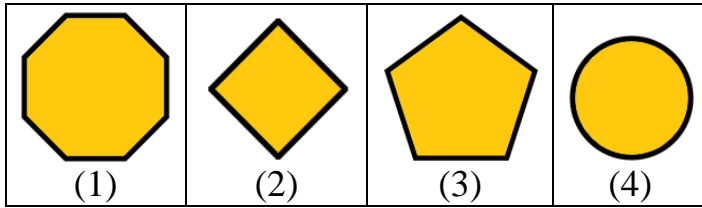




9. Слонёнок обожает фокусы. Вот и сегодня он показывает их друзьям с помощью волшебного ящика. Какая фигура получится из квадрата?



4 км



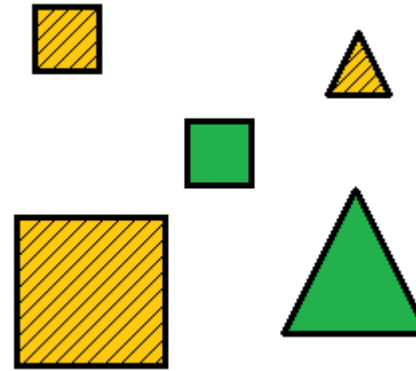
10. Прочитай или послушай рассказ-небылицу. Сколько несостыковок ты заметил? Ответ запиши числом.

3 км

Урожай бананов
Рано утром Слонёнок и Мартышка отправились за бананами. Солнце садилось, и они торопились. Набрал бананов с пальмы, друзья пошли домой. По дороге они встретили зебру, которая так испугалась их, что залезла на пальму.

III дистанция

11. Слонёнок смог разделить фигуры на две группы несколькими способами (для каждого нового способа он использовал новый признак). Сколько вариантов деления возможно? Ответ запиши числом.



3 км


12. Длина шеи Жирафа – 6 птичек, а длина хвоста Мартышки – 2 птички. Какова длина шеи Жирафа, если измерять в хвостах Мартышки? Ответ запиши числом.

3 км

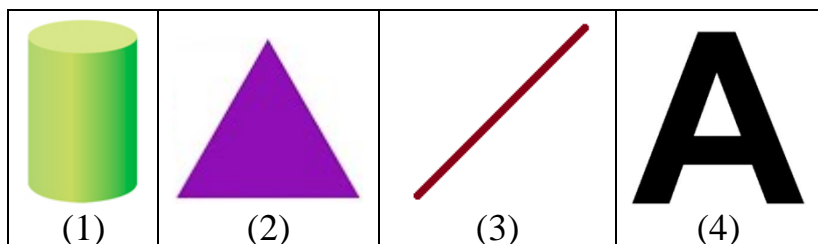






13. Слонёнок заполнял таблицу с геометрическими фигурами. Выбери фигуру, которую может нарисовать Слонёнок вместо знака вопроса.

	Есть углы	Нет углов
Плоские фигуры	?	
Объёмные фигуры		

4 км



14. Слонёнок отправился в путешествие: сделал 2 шага в сторону Мартышки, затем 3 шага направо и 1 налево. В какой клетке оказался Слонёнок? В ответ запиши номер клетки.

			
			4
	1	2	3

5 км

15. Всем известно, что:

- если Мартышка со Слонёнком в этом месяце пили чай, то в следующем они посадят бананы;
- если в этом месяце бананы созрели, то в следующем Мартышка сварит варенье;
- если в этом месяце посадить бананы, то в следующем они созреют;
- если в этом месяце Мартышка сварила варенье, то в следующем они со Слонёнком будут пить чай.

Что будет в августе, если в январе Мартышка со Слонёнком посадили бананы?

- (1) Посадят бананы.
- (2) Бананы созреют.
- (3) Мартышка сварит варенье.
- (4) Мартышка со Слонёнком будут пить чай.

ФИНИШ